

快乐闯关

第 2 单元快乐闯关

一年级数学下册
(RJ)

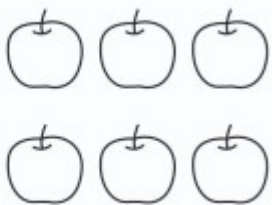
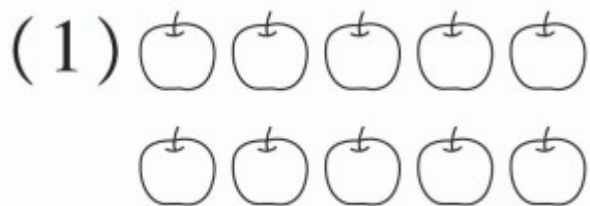


学练优同步作业课件

wǒ huì tián

第一关 我会填。(第1题4☆,其余每空1☆,共21☆)

1. 圈一圈,算一算。



$$16 - 9 = \square$$



$$12 - 7 = \square$$

2. 17 比 9 多(), 比 14 少 7 的是()。

3. 用 12、8 和 4 写出两道减法算式是() 和
()。

4. 在 ○ 里填上“>”“<”或“=”。

$5 + 7 \bigcirc 12$

$6 \bigcirc 13 - 6$

$4 + 8 \bigcirc 6 + 6$

$16 - 7 \bigcirc 8$

$12 \bigcirc 3 + 9$

$15 - 8 \bigcirc 15 - 7$

学练优

5. 在 里填上合适的数。

$$4 + \square = 13$$

$$\square + 7 = 13$$

$$11 - \square = 2$$

$$13 - \square = 8$$

$$\square + 8 = 16$$

$$\square + 6 = 14$$

6. 如果 $\square - \bigcirc = 7$, $\bigcirc + 8 = 13$, 则 $\square = (\quad)$ 。

wǒ huì suàn

第二关 我会算。(34☆)

1. 看谁算得又对又快。(16☆)

$14 - 5 =$

$12 - 9 =$

$3 + 8 =$

$13 - 8 + 4 =$

$12 - 6 =$

$14 - 6 =$

$17 - 8 =$

$7 + 4 - 5 =$

$7 + 7 =$

$15 - 9 =$

$11 - 2 =$

$12 - 3 - 6 =$

$13 - 7 =$

$16 - 7 =$

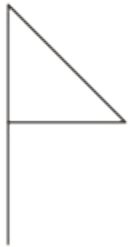
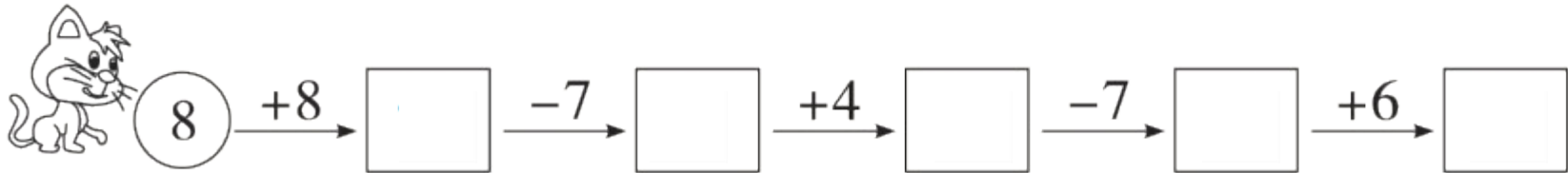
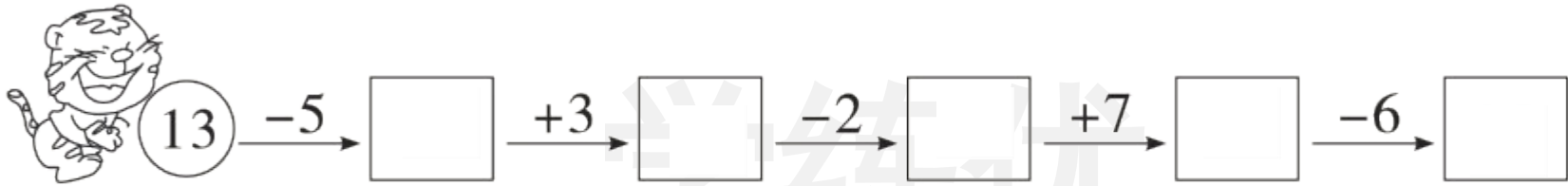
$18 - 9 =$

$11 - 4 + 8 =$

2. 采蘑菇, 连一连。(8☆)



3. 夺旗子。(10☆)



wǒ huì xuǎn

第三关 我会选。(8☆)

1. 下面哪个算式的得数最大? ()

① $11 - 6$

② $11 - 4$

③ $15 - 6$

2. 计算 $15 - 9$, 下面思考过程不正确的是()。

① 想: 先算 $10 - 9 = 1$, 再算 $1 + 5 = 6$

② 想: 从 15 倒着数 9 个数, 15、14、13、12、11、10、9、8、7

③ 想: 9 可以分成 5 和 4, 先算 $15 - 5 = 10$, 再算 $10 - 4 = 6$

3. 如图,用算式“ $11 - 6$ ”解答的问题是()。

① 小优和小轩一共有多少支铅笔

小优: 

② 小优比小轩少多少支铅笔

小轩: 

③ 小轩比小优少多少支铅笔

4. 小优写完 13 个汉字,小轩写完 5 个汉字,如果小轩要超过小优,
他至少还要写()个汉字。




① 7

② 8

③ 9

wǒ huì tián biǎo


第四关 我会填表。(6☆)

体育用品			
原有	13 个	15 个	() 根
借出	4 个	() 个	8 根
还剩	() 个	6 个	5 根

wǒ huì kàn tú liè shì jì suàn

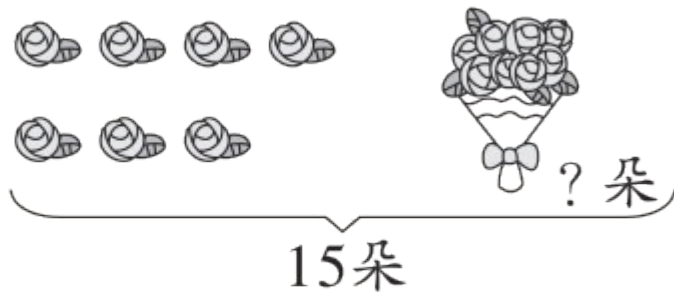
第五关 我会看图列式计算。(6☆)

1.



$$\square \bigcirc \square = \square \text{ (只)}$$

2.



$$\square \bigcirc \square = \square \text{ (朵)}$$

wǒ huì jiě jué wèn tí

第六关 我会解决问题。(25☆)

1. 每人要植14棵树。(6☆)

我还要植8棵树，我已经植了几棵树？



我已经植了7棵树，还要植几棵树？

$$\square \bigcirc \square = \square (\quad)$$

$$\square \bigcirc \square = \square (\quad)$$

2. 小力一共有 17 颗糖,巧克力味的有 5 颗,分给弟弟 8 颗后,还剩几颗糖? (4☆)

$$\square \bigcirc \square = \square (\square)$$

学练优

3. 星期日,一(1)班 15 名师生去参观博物馆。(6☆)



(1) 左边有 7 人,右边有多少人?

$$\square \bigcirc \square = \square (\quad)$$

(2) 男生有 9 人,女生有多少人?

$$\square \bigcirc \square = \square (\quad)$$

4. (9☆)



我得了13次赞。

我得了6次赞。



我得了9次赞。



(1) 小优比小轩多得了几次赞?

$$\square \bigcirc \square = \square (\quad)$$

(2) 小轩比小可少得了几次赞？

$$\square \bigcirc \square = \square (\quad)$$

(3) 请你从图中再提出一个数学问题并解答。

提问：_____

解答： $\square \bigcirc \square = \square (\quad)$

wǒ lái tiǎo zhàn

我来挑战。(做对了,奖励10☆哦!)

把5、6、7、8分别填入□里,组成一个算式。

(每个数只能用一次)

$$\square + \square - \square = \square$$

闯关说明

等级A: 90☆及以上

等级B: 80~89☆

等级C: 60~79☆

等级D: 60☆以下



关注“优翼丛书”小程序

更多优质好课等你来



更多教学资源，敬请关注www.youyi100.com